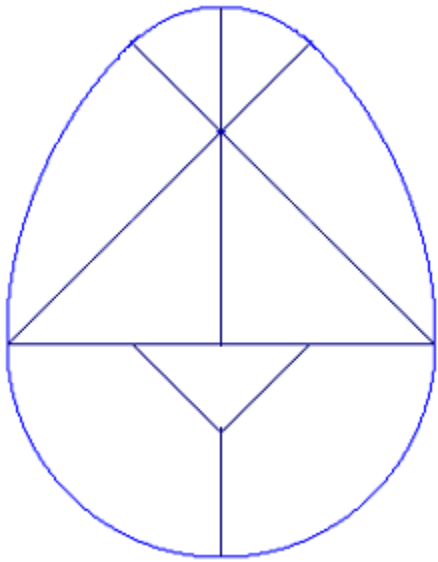




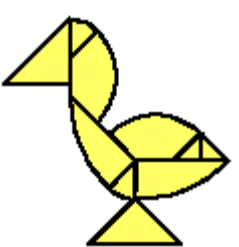

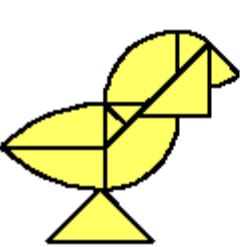



| OBJETIVOS:  | NIVEL                               | MATERIAL        |
|---|-------------------------------------|-----------------|
| <ul style="list-style-type: none"> <li>Calcular áreas y perímetros de figuras sencillas.</li> </ul> | Segundo y tercer ciclo de Primaria. | Tangram ovoide. |

| DESARROLLO DE LA ACTIVIDAD |   |
|----------------------------|---|
| Fecha: _____               | <p>El tangram ovoide o “Huevo de Colón”, tiene la siguiente forma.</p> <div style="text-align: center; margin: 20px 0;">  </div> <p>1.- Describe cada una de las piezas, cópialas en cartulina, recórtalas y prueba de hacer y deshacer el huevo varias veces.</p> <p>2.- Intenta representar las siguientes figuras. (No mires la solución)</p> <div style="display: flex; justify-content: space-around; align-items: center; margin-top: 20px;"> <div style="text-align: center;">  </div> <div style="text-align: center;">  </div> <div style="text-align: center;">  </div> <div style="text-align: center;">  </div> </div> <div style="display: flex; justify-content: space-around; align-items: center; margin-top: 20px;"> <div style="text-align: center;">  </div> <div style="text-align: center;">  </div> <div style="text-align: center;">  </div> <div style="text-align: center;">  </div> </div> |
| Nombre: _____              |   |