

<b>OBJETIVOS:</b>	<b>NIVEL</b>	<b>MATERIAL</b>
<ul style="list-style-type: none"> <li>Hacer que los alumnos y alumnas interioricen el concepto de ángulo recto, que hagan un ángulo recto, y que encuentren ángulos rectos en su entorno.</li> </ul>	Segundo ciclo de Primaria.	Geoplano 5x5. Trama de puntos cuadrada.

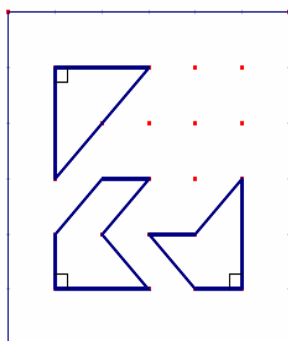
**DESARROLLO DE LA ACTIVIDAD**

Con un geoplano 5x5 construye figuras que tengan:

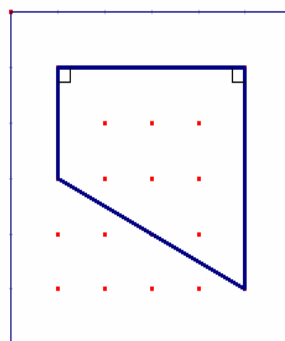
Fecha: \_\_\_\_\_

- 1.- Sólo un ángulo recto.
- 2.- Como mínimo un ángulo recto.
- 3.- Exactamente dos ángulos rectos.
- 4.- Seis ángulos rectos.
- 5.- Ningún ángulo recto.
- 6.- Tres ángulos rectos y siete lados.
- 7.- Tantos ángulos rectos como puedas hacer.

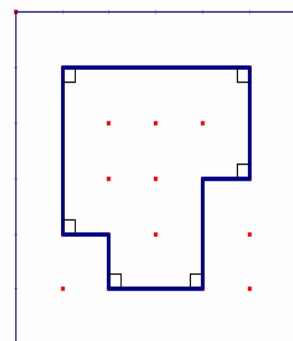
**Respuestas posibles:**



Un ángulo recto



Dos ángulos rectos



Seis ángulos rectos

Nombre: \_\_\_\_\_