


MATEMÁTICAS DE CERCA

Desafíos

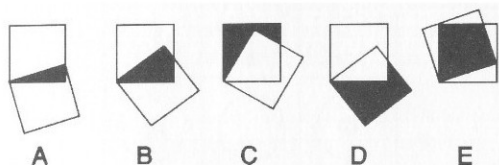
5
2006



Ningún día sin leer

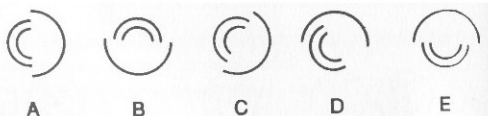


1. ¿Qué figura, de A a E, completa la serie anterior?



2. Son entre las 11 h y mediodía.
¿Cuántos minutos antes de mediodía indica la aguja minutos si, una hora antes, el número de minutos transcurridos desde las 8 h de la mañana era tres veces superior al número de minutos resultante?

3. Descubre al intruso.

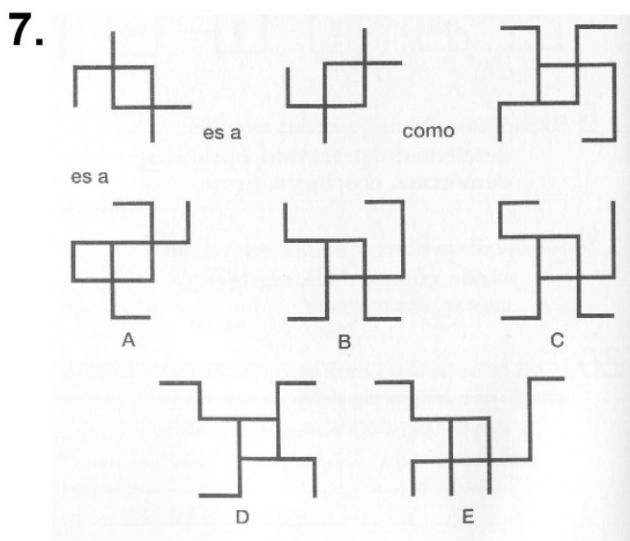


4. A B C D E F G H

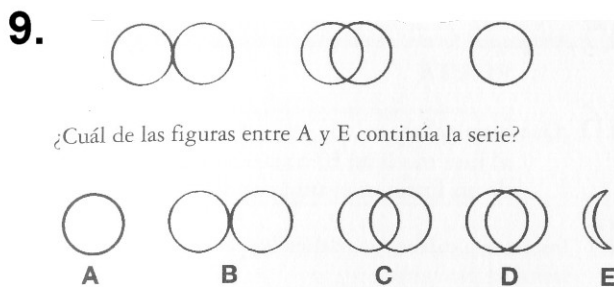
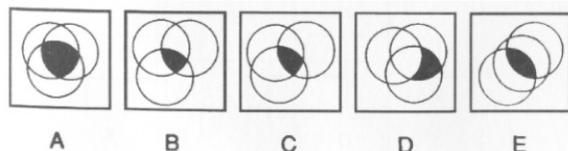
¿Qué letra se encuentra dos posiciones a la izquierda de la letra inmediatamente a la derecha de la letra que está a dos posiciones hacia la derecha de la letra que está a cuatro posiciones hacia la izquierda de la letra inmediatamente a la derecha de la E?

5. "Hexágono" es a "triángulo" como "octógono" es a:
"pentágono", "cuadrado", "rombo", "círculo", "trapezio".

6. Completa la serie:
cuadrado, pentágono, hexágono, heptágono... escogiendo entre: eneágono, octógono, decágono, polígono.



8. Descubre al intruso:



10. ¿Qué número completa la serie...

1, 3, 8, 19, 42, 89...?

Tomado de "Evalúe su coeficiente intelectual" de Ken Russell y Philip Carter, Ed. Libérica

Ningún día sin pensar